

-20																			
-25																			
Облачность																			
Осадки																			
Направл. ветра																			

Средняя температура за месяц: _____ °C.



Оценка: _____

В конце месяца начертите график изменения температуры воздуха и подсчитайте среднюю температуру воздуха за этот месяц.

Продолжите ведение календаря погоды в октябре, ноябре, декабре, январе, феврале и в марте.




Условные знаки.

Облачность:


- П** - ясно;
-  - переменная облачность;
-  - пасмурно,

- Ш** - северный;
- Щ** - южный;
- В** - западный;
- Е** - восточный

Осадки:

-  - дождь;
-  - туман;
-  - снег.

Направление ветра:

- Н** - северо-западный;
- О** - северо-восточный;
- Ю** - юго-западный;
-  - юго-восточный.